

Красноярск № 21.

425 Георгий  
+ 745 Павлик  
-----  
1170

ВСЕРОССИЙСКАЯ ОЛИМПИАДА ШКОЛЬНИКОВ ПО ФОРМ  
БЕЗОПАСНОСТИ И ЗАЩИТЫ РОДИНЫ  
(МУНИЦИПАЛЬНЫЙ ЭТАП)  
ТЕОРЕТИЧЕСКИЙ ТУР

всего

третья возрастная группа (10 класс)

Код/шифр участника

05	3P	-	10	-	5
----	----	---	----	---	---

**Уважаемый участник Олимпиады!**

Вам предстоит выполнить теоретические (письменные) и тестовые задания.

Время выполнения заданий теоретического тура 2 академических часа (90 минут).

*Выполнение теоретических (письменных) заданий целесообразно организовать следующим образом:*

– не спеша, внимательно прочитайте задание и определите, наиболее верный и полный ответ;

– отвечая на теоретический вопрос, обдумайте и сформулируйте конкретный ответ только на поставленный вопрос;

– если Вы отвечаете на задание, связанное с заполнением таблицы или схемы, не старайтесь детализировать информацию, вписывайте только те сведения или данные, которые указаны в вопросе;

– особое внимание обратите на задания, в выполнении которых требуется выразить Ваше мнение с учетом анализа ситуации или поставленной проблемы. Внимательно и вдумчиво определите смысл вопроса и логику ответа (последовательность и точность изложения). Отвечая на вопрос, предлагайте свой вариант решения проблемы, при этом ответ должен быть кратким, но содержать необходимую информацию;

– после выполнения всех предложенных заданий еще раз удостоверьтесь в правильности выбранных Вами ответов и решений.

*Выполнение тестовых заданий целесообразно организовать следующим образом:*

– не спеша, внимательно прочитайте тестовое задание;

– определите, какой из предложенных вариантов ответа наиболее верный и полный;

– обведите кружком букву, соответствующую выбранному Вами ответу;

– продолжайте таким образом работу до завершения выполнения тестовых заданий;

– после выполнения всех предложенных заданий еще раз удостоверьтесь в правильности выбранных Вами ответов;

– если потребуется корректировка выбранного Вами варианта ответа, то неправильный вариант ответа зачеркните крестиком, а новый выбранный ответ обведите кружком.

*Предупреждаем Вас, что:*

– при оценке тестовых заданий, где необходимо определить один *правильный ответ*, 0 баллов выставляется как за неверный ответ, а также, если участником отмечены несколько ответов (в том числе правильный), или все ответы;

– при оценке тестовых заданий, где необходимо определить все *правильные ответы*, 0 баллов выставляется, если участником отмечено большее количество ответов, чем предусмотрено в задании (в том числе правильные ответы) или все ответы.

Задание теоретического тура считается выполненным, если Вы вовремя сдаете его членам жюри. **Максимальная оценка - 100 баллов.**

**Желаем вам успеха!**

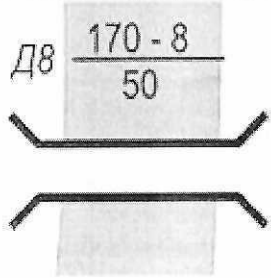
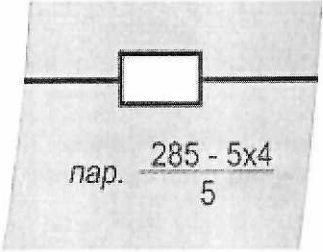
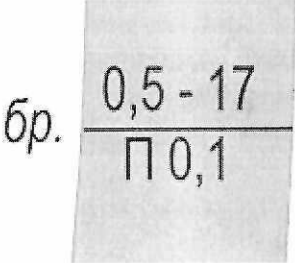

Общая оценка результата выполнения участником заданий теоретического тура 42 баллов

Павлик П.

Председатель жюри \_\_\_\_\_

## МОДУЛЬ 1

**ЗАДАНИЕ 1. Определите названия (значения) условных топографических знаков по их изображениям. Расшифруйте пояснительные условные знаки.**

Изображение	Название	Расшифровка
		
		
		
		

Оценочные баллы: максимальный – 6 баллов; фактический – 0 баллов

Подписи членов жюри \_\_\_\_\_

*Р. Б. Дюков*

**ЗАДАНИЕ 2.** Прочитайте текст и напишите пропущенные слова.

А) Неинфекционные заболевания (НИЗ), также известные как хронические заболевания, как правило, имеют продолжительное течение и являются результатом воздействия комбинации генетических, физиологических, экологических и поведенческих факторов.

В структуре смертности от НИЗ, по данным Всемирной организации здравоохранения, наибольшая доля приходится на генетические и экологические заболевания.

Б) Прочитайте текст. Определите по перечисленным признакам о каком неотложном состоянии идёт речь в тексте.

Начинается с боли или неприятного ощущения в центре грудной клетки, которые продолжаются несколько минут или постоянно повторяются. Боль или неприятное ощущение может чувствоваться в руках, левом плече, локтевой области, челюсти или в спине. Другие симптомы включают:

- затрудненное дыхание или одышку;
- ощущение тошноты или рвоту;
- появление головокружения или слабости;
- появление холодного пота, бледности на лице.

Ответ: панкреатическая атака

В) Опишите мероприятия первой помощи пострадавшему, у которого отмечаются признаки, перечисленные в части «Б» задания (пострадавший в сознании).

1. \_\_\_\_\_
2. \_\_\_\_\_
3. \_\_\_\_\_
4. \_\_\_\_\_

Оценочные баллы: максимальный – 6 баллов; фактический – 0 баллов

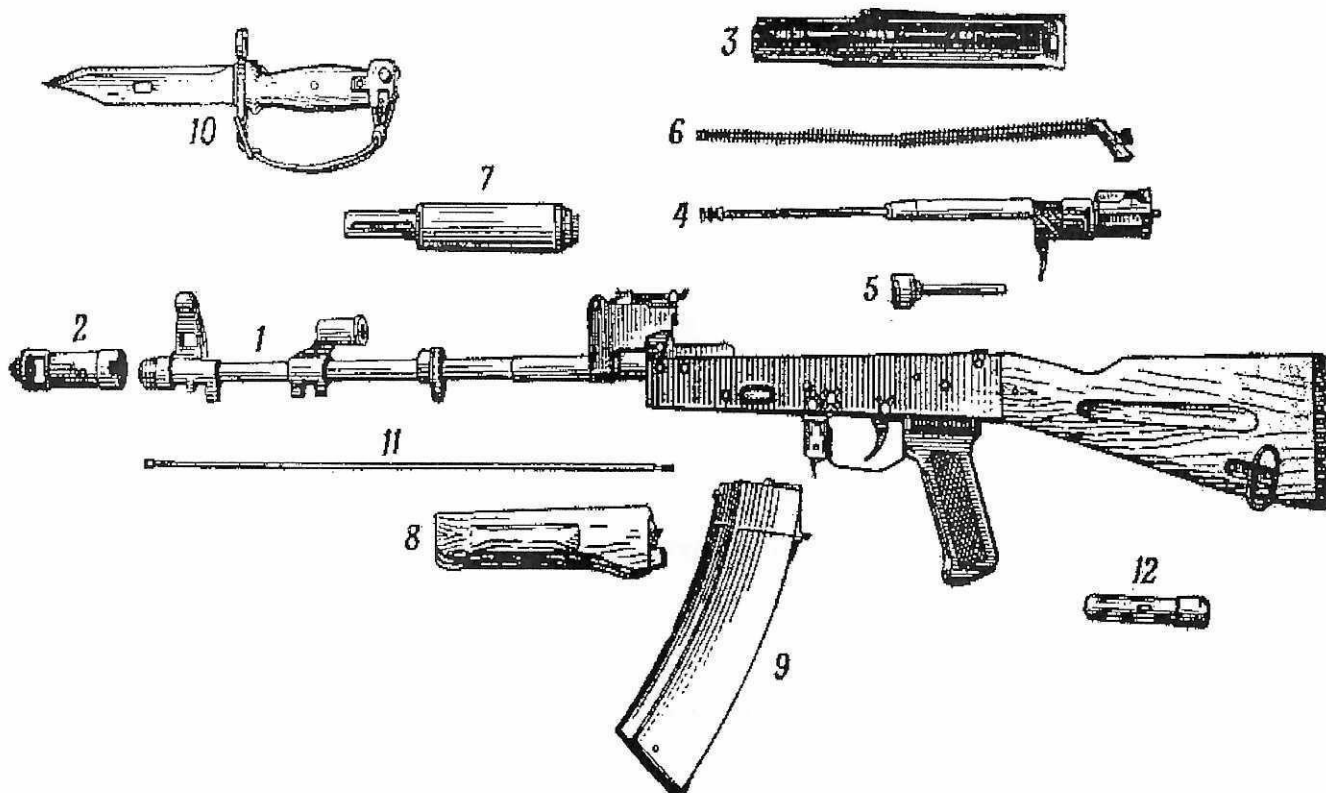
Подписи членов жюри \_\_\_\_\_

ЗАДАНИЕ 3. Опишите назначение 5,45-мм автомата Калашникова АК-74м, название основных частей и механизмов автомата и его принадлежностей

Назначение 5,45-мм автомата Калашникова АК-74м \_\_\_\_\_

\_\_\_\_\_

\_\_\_\_\_



Название основных частей и механизмов автомата АК-74м и его принадлежностей

1. корпус

11. ствол

9. магазин

6. пружина

Оценочные баллы: максимальный – 7 баллов; фактический – 0 баллов

Подписи членов жюри \_\_\_\_\_

**ЗАДАНИЕ 4.** Селевые потоки зарождаются в горной местности и движутся по руслам рек, оврагам, имеющим в своих верховьях уклоны. Заполните схему, вписав три обязательных условия, совпадение которых необходимо для возникновения селя.


1

2

3

Оценочные баллы: максимальный – 4 балла; фактический – 0 баллов

Подписи членов жюри

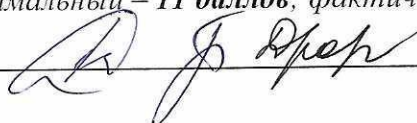


**ЗАДАНИЕ 5.** Определите, поставив знак «+» в колонки «Ответ», какие поражающие факторы землетрясений и извержения вулканов относятся к первичным, а какие - к вторичным.







	Ответ		Ответ		
<b>ПЕРВИЧНЫЕ ПОРАЖАЮЩИЕ ФАКТОРЫ</b>		аварии на опасных объектах, транспорте	+	<b>ВТОРИЧНЫЕ ПОРАЖАЮЩИЕ ФАКТОРЫ</b>	
		вулканические бомбы (застывшие кусочки лавы)	+		
	✓	+	каменная пена (пемза)		
	✓	+	лавовые фонтаны		
			наводнения из-за запруживания рек		+
		+	обвалы, оползни		
		+	обрыв линий электропередач, газопроводных и канализационных сетей		
			палящая туча (раскаленные пыль, газы)		+
	✓	+	потоки вулканической грязи		
		+	разрушение зданий, сооружений и коммуникаций		
			смещение, вибрация почвогрунтов		+

Оценочные баллы: максимальный – 11 баллов; фактический – 5 баллов

Подписи членов жюри



ЗАДАНИЕ 6. Определите и отметьте знаком «+» в колонки «Ответ», какие из приведённых дорожных знаков запрещают движение автомобилей, а какие мотоциклов.

	Ответ		Ответ	
ЗНАКИ, ЗАПРЕЩАЮЩИЕ ДВИЖЕНИЕ АВТОМОБИЛЕЙ ✓	+			ЗНАКИ, ЗАПРЕЩАЮЩИЕ ДВИЖЕНИЕ МОТОЦИКЛОВ ✓
	+			
	+		+	
	+			
	.		+	
			+	

Оценочные баллы: максимальный – 8 баллов; фактический – 5 баллов

Подписи членов жюри

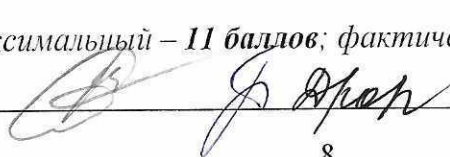


**ЗАДАНИЕ 7. Определите, поставив знак «+», какие мероприятия, проводимые органами управления и силами РСЧС относятся к режиму повседневной деятельности, а какие к режиму повышенной готовности.**

В РЕЖИМЕ ПОВСЕДНЕВНОЙ ДЕЯТЕЛЬНОСТИ	+	Введение при необходимости круглосуточного дежурства руководителей и должностных лиц органов управления и сил единой системы на стационарных пунктах управления		В РЕЖИМЕ ПОВЫШЕННОЙ ГОТОВНОСТИ
	+	Изучение состояния окружающей среды и прогнозирование чрезвычайных ситуаций		
		Непрерывный сбор, обработка и передача органам управления и силам единой системы данных о прогнозируемых чрезвычайных ситуациях, информирование населения о чрезвычайных ситуациях	+	
		Осуществление в пределах своих полномочий необходимых видов страхования	+	
	+	Планирование действий органов управления и сил единой системы, организация подготовки и обеспечения их деятельности		
		Подготовка населения к действиям в чрезвычайных ситуациях, в том числе при получении сигналов экстренного оповещения	+	
		Принятие оперативных мер по предупреждению возникновения и развития чрезвычайных ситуаций, снижению размеров ущерба и потерь в случае их возникновения, а также повышению устойчивости и безопасности функционирования организаций в чрезвычайных ситуациях	+	
	+	Пропаганда знаний в области защиты населения и территорий от чрезвычайных ситуаций и обеспечения пожарной безопасности		
	+	Разработка и реализация целевых и научно-технических программ и мер по предупреждению чрезвычайных ситуаций и обеспечению пожарной безопасности		
	+	Руководство созданием, размещением, хранением и восполнением резервов материальных ресурсов для ликвидации чрезвычайных ситуаций		
	Усиление контроля за состоянием окружающей среды, прогнозирование возникновения чрезвычайных ситуаций и их последствий	+		

Оценочные баллы: максимальный – 11 баллов; фактический – 8 баллов

Подписи членов жюри






**ЗАДАНИЕ 8.** В тексте, приведённом ниже, содержатся полномочия Президента Российской Федерации и полномочия Правительства Российской Федерации в области гражданской обороны. Разделите их, поставив напротив полномочий Президента – цифру 1, напротив полномочий Правительства – цифру 2.


Полномочия в области гражданской обороны	Ответ (цифра)
Определяет основные направления единой государственной политики в области гражданской обороны	1 ✓
Обеспечивает проведение единой государственной политики в области гражданской обороны	2 ✓
Определяет порядок приведения в готовность гражданской обороны	2 ✓
Утверждает План гражданской обороны и защиты населения Российской Федерации	1 ✓
Определяет порядок создания убежищ и иных объектов гражданской обороны, а также порядок накопления, хранения и использования в целях гражданской обороны запасов материально-технических, продовольственных, медицинских и иных средств	2 ✓
Вводит в действие План гражданской обороны и защиты населения Российской Федерации на территории Российской Федерации или в отдельных ее местностях в полном объеме или частично	1 ✓
Издает нормативные правовые акты в области гражданской обороны и организует разработку проектов федеральных законов в области гражданской обороны	2 1 ✓

Оценочные баллы: максимальный – 14 баллов; фактический – 12 баллов

Подписи членов жюри



**МОДУЛЬ 2**  
**Тестовые задания**


№ п/п	Тестовые задания	Макс. балл	Кол-во набранных баллов
Определите <u>один</u> правильный ответ			
1.	<p><b>В случае, если велосипедисту необходимо объехать стоящий у тротуара автомобиль, он должен:</b></p> <p>а) объехать автомобиль слева, убедившись в безопасности маневра;</p> <p>1 б) <input checked="" type="radio"/> подать рукой сигнал перестроения налево, убедиться в безопасности объезда и только после этого совершить маневр;</p> <p>в) подать сигнал и совершить объезд препятствия (сигнал дает велосипедисту преимущество);</p> <p>г) дождаться, когда автомобиль начнет движение.</p>	1	
2.	<p><b>При пероральном отравлении нельзя вызывать рвоту у пострадавшего, если:</b></p> <p>а) у пострадавшего уже была рвота;</p> <p>1 б) произошло отравление лекарственными препаратами;</p> <p>в) отравление произошло, но он хорошо себя чувствует;</p> <p>г) <input checked="" type="radio"/> произошло отравление веществами прижигающего действия.</p>	1	
3.	<p><b>Знак дорожного движения «Конец всех ограничений» относится к группе:</b></p> <p>а) предупреждающие знаки;</p> <p>б) <input checked="" type="radio"/> знаки приоритета;</p> <p>в) запрещающие знаки;</p> <p>г) предписывающие знаки.</p>	1	
4.	<p><b>Продолжительность рабочего времени для трудящихся в возрасте до 16 лет должна быть не более:</b></p> <p>а) четырех часов в течение одного рабочего дня;</p> <p>б) 16 часов в неделю;</p> <p>в) <input checked="" type="radio"/> 8 часов в неделю;</p> <p>г) 24 часов в неделю.</p>	1	

5.	<p><b>Чрезвычайное положение на всей территории Российской Федерации или в её отдельных местностях вводится:</b></p> <p>а) Указом Президента Российской Федерации;</p> <p><input checked="" type="radio"/> б) Постановлением Правительства Российской Федерации;</p> <p>в) Постановлением Верховного Суда Российской Федерации;</p> <p>г) Постановлением Государственной Думы Российской Федерации;</p> <p>д) Постановлением Совета Федерации Российской Федерации.</p>	1	
6.	<p><b>Аварии на коммунальных системах по скорости распространения относятся к:</b></p> <p>а) внезапным;</p> <p>б) стремительным;</p> <p><input checked="" type="radio"/> в) умеренным;</p> <p>г) плавным.</p>	1	
7.	<p><b>Одной из причин осечки в АК-74 М является:</b></p> <p>а) неисправность защелки магазина;</p> <p>б) загрязнение трущихся частей, газовых путей или патронника;</p> <p><input checked="" type="radio"/> в) заклинивание ударника в затворе;</p> <p>г) неисправность пружины возвратного механизма.</p>	1	
8.	<p><b>Перестроение отделения из развёрнутого строя в колонну производится по команде:</b></p> <p>а) отделение, в колонну – становись;</p> <p><input checked="" type="radio"/> б) отделение, в колонну по одному (по два) – становись;</p> <p>в) отделение, напра-ВО;</p> <p>г) отделение, нале-ВО.</p>	1	
9.	<p><b>Корабельное воинское звание «старшина 1 статьи»:</b></p> <p>а) соответствует войсковому воинскому званию «сержант»;</p> <p>б) старше по званию войскового воинского звания «сержант»;</p> <p>в) младше по званию войскового воинского звания «сержант»;</p> <p><input checked="" type="radio"/> г) соответствует войсковому воинскому званию «старшина».</p>	1	
10.	<p><b>Поражение электрическим током напряжением до 380 В, вызывает у пострадавшего следующее повреждение:</b></p> <p>а) электрические метки;</p> <p><input checked="" type="radio"/> б) судороги и спазм дыхательной мускулатуры;</p> <p>в) отек мозга;</p> <p>г) разрывы внутренних органов.</p>	1	

Определите <u>все</u> правильные ответы		
11.	<p><b>Отметьте признаки будущего ухудшения погоды:</b></p> <p>а) воробьи «купаются» в пыли;</p> <p>б) ель распрямляет длинные ветви;</p> <p><input checked="" type="checkbox"/> в) утром туман стелется по земле;</p> <p>г) вечером сильно пахнет травой;</p> <p><input checked="" type="checkbox"/> д) вечерняя заря красного цвета;</p> <p>е) вечером небо золотистого или розового цвета.</p>	3
12.	<p><b>Контрольные узлы обязательно вяжутся на следующих туристических узлах:</b></p> <p><input checked="" type="checkbox"/> а) ткацкий;</p> <p>б) грейпвайн;</p> <p><input checked="" type="checkbox"/> в) двойной проводник;</p> <p><input checked="" type="checkbox"/> г) академический;</p> <p>д) австрийский проводник.</p>	2
13.	<p><b>Признаками приближения бури, урагана и смерча могут служить:</b></p> <p><input checked="" type="checkbox"/> а) усиление скорости ветра;</p> <p>б) подъем уровня воды;</p> <p><input checked="" type="checkbox"/> в) резкое падение атмосферного давления;</p> <p>г) быстрое обнажение морского дна.</p>	2
14.	<p><b>Роль окислителя при возникновении и развитии пожара может выполнять:</b></p> <p><input checked="" type="checkbox"/> а) азот;</p> <p>б) окислы азота;</p> <p><input checked="" type="checkbox"/> в) метан;</p> <p><input checked="" type="checkbox"/> г) пропан;</p> <p>д) фтор.</p>	2
15.	<p><b>На вооружении спасательных воинских формирований федерального органа исполнительной власти, уполномоченного на решение задач в области гражданской обороны, находится:</b></p> <p><input checked="" type="checkbox"/> а) специальная техника;</p> <p><input checked="" type="checkbox"/> б) боевое ручное стрелковое оружие;</p> <p>в) бронетанковая техника;</p> <p>г) средства установки минных заграждений;</p> <p><input checked="" type="checkbox"/> д) средства борьбы с воздушными целями.</p>	2

16.	<b>Основными загрязнителями воздуха являются:</b> <input type="checkbox"/> а) нефтепродукты; <input type="checkbox"/> б) пестициды; <input checked="" type="checkbox"/> в) сажа; <input checked="" type="checkbox"/> г) углеводороды.	2	
17.	<b>Первичные средства пожаротушения подразделяются на следующие типы:</b> <input type="checkbox"/> а) средства пожарной сигнализации; <input checked="" type="checkbox"/> б) пожарный инвентарь; <input type="checkbox"/> в) пожарные машины; <input checked="" type="checkbox"/> г) генераторные огнетушители аэрозольные переносные.	2	
18.	<b>Офицер в звании капитан-лейтенант является начальником для всех:</b> <input type="checkbox"/> а) мичманов; <input checked="" type="checkbox"/> б) сержантов; <input checked="" type="checkbox"/> в) лейтенантов; <input type="checkbox"/> г) прапорщиков; <input checked="" type="checkbox"/> д) старших матросов.	2	
19.	<b>К личному оружию военнослужащих относятся:</b> <input checked="" type="checkbox"/> а) граната ручная; <input type="checkbox"/> б) гранатомёт станковый; <input checked="" type="checkbox"/> в) карабин; <input checked="" type="checkbox"/> г) лопата малая сапёрная; <input type="checkbox"/> д) пистолет; <input checked="" type="checkbox"/> е) автомат.	3	
20.	<b>Укажите даты – Дни воинской славы – установленные в честь морских побед Российского флота:</b> <input type="checkbox"/> а) 02 февраля; <input checked="" type="checkbox"/> б) 07 июля; <input checked="" type="checkbox"/> в) 10 июля; <input checked="" type="checkbox"/> г) 09 августа; <input type="checkbox"/> д) 23 августа; <input type="checkbox"/> е) 11 сентября.	3	
	<b>Количество баллов</b>	<i>max</i> 33	

Подписи членов жюри

 12

